

Математична
розминка

Віднімання виду 48-8, 48-40

✓ Розклади на розрядні доданки: 54, 39, 71,
96, 12.

✓ Обчисли усно:

$30+6$

$60+10$

$10 \text{ к.} + 50 \text{ к.}$

$8+20$

$90-50$

$1 \text{ м} - 30 \text{ см}$

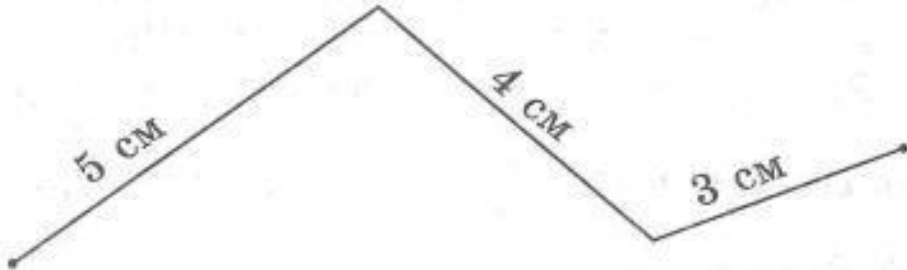
$90+3$

$40-20$

$1 \text{ грн} - 70 \text{ к.}$

Математика з мамою (усно)

Обчисли довжину ламаної



Мама хоче переконатись, чи ти вмієш знаходити значення виразів

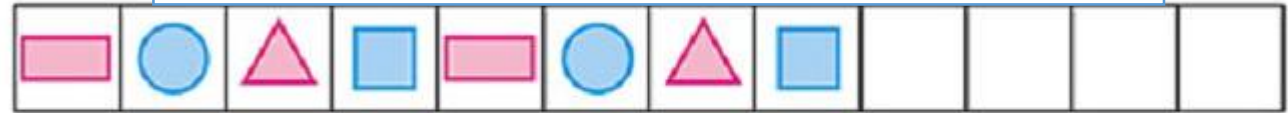
$$40 + \square = 46$$

$$5 + \square = 65$$

$$\square + 30 = 31$$

$$20 + \square = 50$$

Подумай, як продовжити ряд



*

Готуючись до школи, звірята купували шкільне приладдя.



14 грн



10 грн



2 грн



3 грн

Кожне з них купило по дві речі. Хто що купив, якщо вони витратили:

5 грн



17 грн



20 грн



28 грн



?

Ти і мама гарно попрацювали!

Наталя Саціна

Порівняй приклади трьох стовпчиків.

Яке математичне явище вони демонструють?

$$5+3=8$$

$$50+30=80$$

$$80+5=85$$

$$8-3=5$$

$$80-30=50$$

$$85-80=5$$

$$8-5=3$$

$$80-50=30$$

$$85-5=80$$

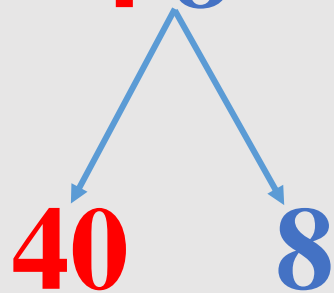
Молодець! Взаємозв'язок дії додавання та віднімання. Із прикладу на додавання можна скласти два приклади на віднімання.

Це допомагає в обчисленнях!

Розглянь випадки віднімання

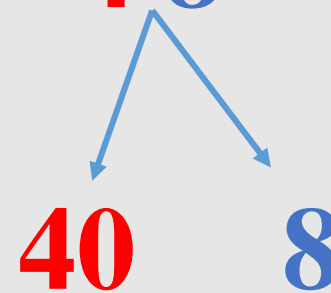
$$4 \text{ д. } 8 \text{ од.} - 8 \text{ од.} = 4 \text{ д.}$$

$$48 - 8 = 40$$



$$4 \text{ д. } 8 \text{ од.} - 4 \text{ д.} = 8 \text{ од.}$$

$$48 - 40 = 8$$



Усі одиниці віднімаємо,
залишаються десятки.

Усі десятки віднімаємо,
залишаються одиниці.

Відступи від попередньої роботи 4 клітинки вниз.
У 5 клітинці посередині запиши:

22 квітня

Дистанційна робота

Хвилинка каліграфії. Запиши числа другого десятка. Вибери серед них королеву.



Розклади письмово на розрядні доданки *число 18.*

Робота з підручником

- Розгорни підручник на с. 109.

№1, 3 (2)– усно.

№2, 3 (1) - письмово (перевірка запису задачі на останньому слайді)

Робота в друкованому зошиті

- Розгорни зошит на с. 40. Виконай усі завдання.

Перевірка запису задачі

Задача 3 (1)

Сосна – 20 м

Тополя – 40 м



на ? м в.

Розв'язання

$$40 - 20 = 20 \text{ (м)}$$

Відповідь: тополя вища за сосну на 20 м.



Дуже задоволена твоєю роботою!