

Математична
розминка (усно)

Додавання виду $45+3$



Хто зайвий на малюнку? Поясни свій вибір.

34, 67, 80, 5, 14, 91, 28.


Яке число зайве? Поясни свій вибір.

34, 67, 80, 14, 91, 28.

Знайди тепер зайве число. Чому?
Назви у порядку зростання числа, що залишилися.

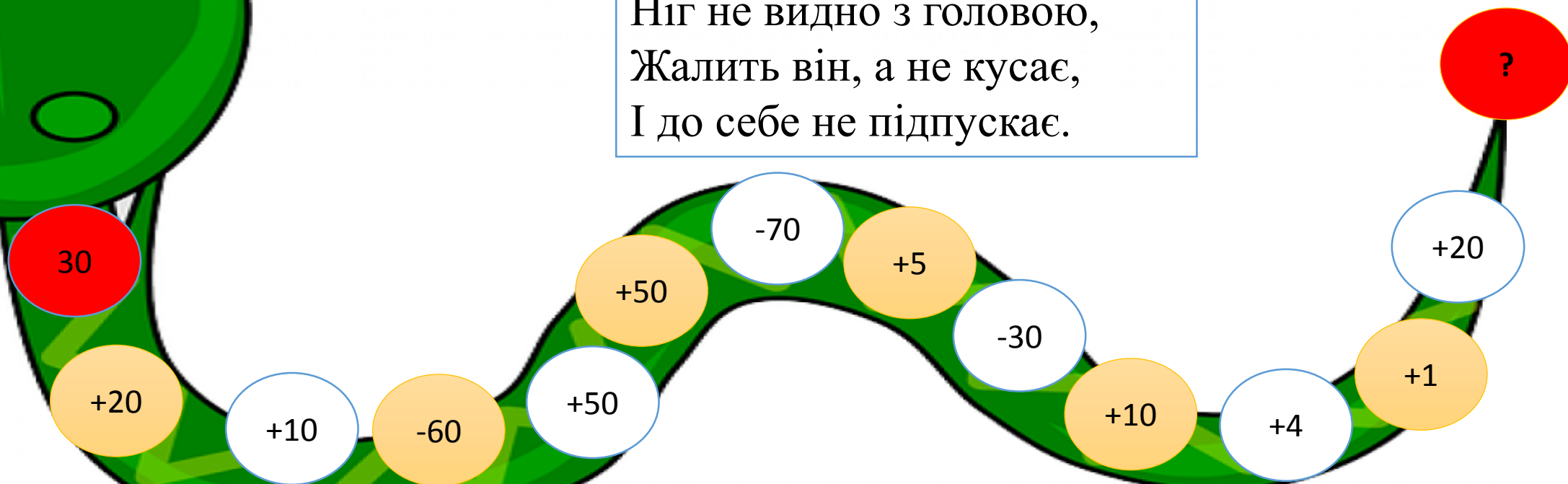
Розклади на розрядні доданки найменше і найбільше число.

Наталія Саціна



Відгадай загадку

Проповзає шнур живий,
Ніг не видно з головою,
Жалить він, а не кусає,
І до себе не підпускає.




Обчисли усно математичний ланцюжок . Починай з голови.
Яка відповідь ланцюжка? Скільки десятків у цьому числі?

Відступи від попередньої роботи 4 клітинки вниз.
У 5 клітинці посередині запиши дату та вид роботи.

29 квітня

Дистанційна робота

Хвилинка каліграфії. Пропиши рядок числа 40.



Що ти знаєш про число 40?

Молодець!

Число 40 двоцифрове, складається з 4 десятків, це найбільше число 4 десятка, кругле число, сусіди 39 і 41, утворюється $39+1$, $41-1$.

Математичні цікавинки про змії

- ✓ 40 років прожив удав на кличку Попай. Він рахується рекордсменом-довгожителем серед змії.
- ✓ 9 з 10 найбільш отруйних змії на Землі в Австралії. Тому це «найзмієнебезпечніший» континент.
- ✓ 200 кг - маса сітчастого пітона, який нині живе в одному з японських зоопарків.
- ✓ 10 см – довжина найменшої змії на планеті – це вузькорота змія або сліпозмійка.
- ✓ 3 м – це відстань, на яку здатна бризнути отрутою плююча кобра.

Будьте обережними!

Наталія Саціна

Розглянь записи

$$45 + 3 = 48$$
$$40 + 5$$

$$40 + 5 + 3 = 40 + 8 = 48$$

Одиниці
додаємо до
одиниць

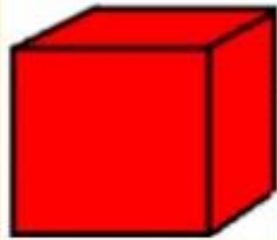

Робота з підручником

- Розгорни підручник на с. 115.

№1, 2, 4 (усно) – розглянь випадок обчислення.

№3, 5 - письмово (перевірка запису задачі на останньому слайді).

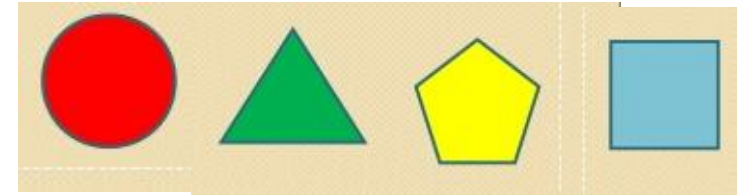
Об'ємні фігури



Плоскі фігури



Геометричний диктант.
Запиши назви фігур за
малюнком, не змінюючи
послідовність.



Графічний диктант. Відступи від задачі дві клітинки вниз, відрахуй від початку рядка 5 клітинок і постав крапку на перехресті клітинок. Це - початок маршруту. Прокладай маршрут за допомогою простого олівця. Розпочинаємо!

1 клітинка праворуч, 3 вниз, 2 праворуч, 2 вниз, 1 ліворуч, 2 вниз, 3 праворуч, 3 вниз, 1 ліворуч, 1 вверх, 1 ліворуч, 2 вниз, 1 праворуч, 2 вниз, 2 праворуч, 1 вниз, 6 ліворуч, 1 вверх, 1 ліворуч, 1 вверх, 1 праворуч, 12 вверх.

- На що тобі подібна ця фігура? **Молодець!** На зайчика.
- Знайди голівку тваринки. Точкою познач око.
- Можеш розфарбувати .



Цікавинка

Зуби у зайців ростуть усе життя. Вони стираються, коли зайці гризуть їжу, але рости ніколи не припиняють. У гарну погоду, коли зайцю загрожує небезпека, він ставить вуха вертикально, а сам припавши до землі, обстежує все навколо, залишаючись непомітним.

Перевірка запису задачі

Задача 5

Гралосся – 10 кр.

Сховалося - ? кр.

Залишилося – 4 кр.

Розв'язання

$$10 - 4 = 6 \text{ (кр.)}$$

Відповідь: уже сховалося 6 кроликів.

Гарна
робота!



Наталя Саціна