

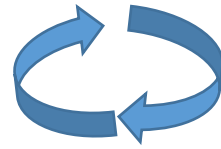
## Усний рахунок

✓ **Обчисли усно**

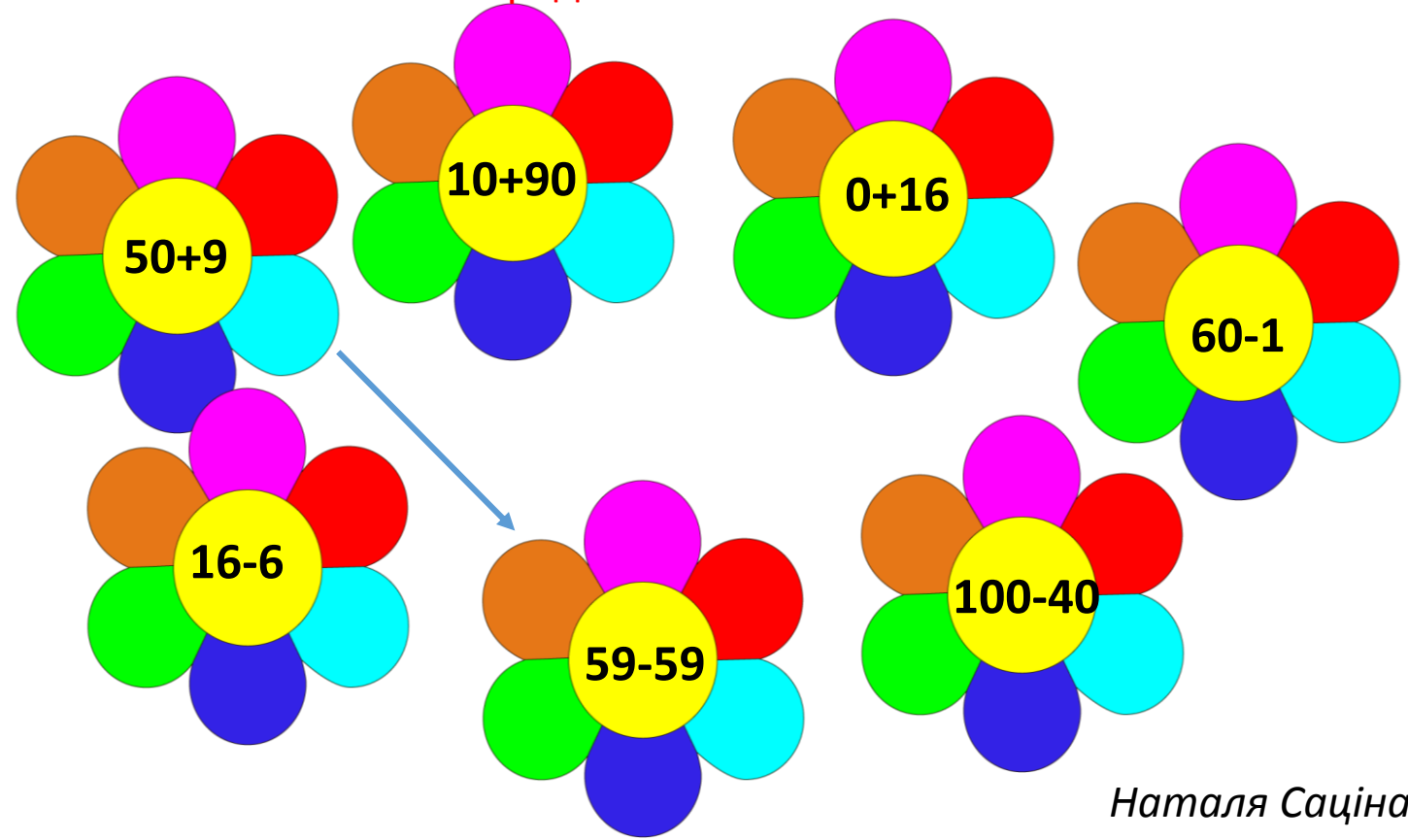
**80**

**-50**  
**+10**  
**+5**  
**-40**  
**-1**

# Повторення вивченого



Кругові вирази – це вирази, в яких кожен наступний починається з відповіді попереднього.



# Робота з підручником

- Розгорни підручник на с. 113-114

№1, 2, 3 – виконай усно.

Прочитай задачі №4, 5, 6. Розглянь короткі записи умов.

Які задачі розв'язуються дією додавання? Поясни.

Яка задача розв'язується дією віднімання? Поясни.

## Задача 4

Продуктів – 7 кг  
Тур. сп. – 10 кг } ?

## Задача 5

Грецькі – 70 г.  
Лісові - ?, решта } 100 г.

## Задача 6

Кінотеатр – 60 грн  
Парк - ?, на 30 грн д.

# Інструктаж з виконання діагностичної роботи

1. Відступи в робочому зошиті від попередньої роботи 4 клітинки вниз.
2. У 5 клітинці посередині запиши:

**28 квітня**

## Діагностична робота

3. Виконай усі завдання. Завдання нумеруй.



- завдання для дівчаток;



- завдання для хлопчиків.

4. Як завершиш роботу, здійсни самооцінювання. Намалюй кружечок відповідного кольору.
5. Після цього сфотографуй роботу і відішли мені на Viber.

***Бажаю успіхів!***



### 1. Обчисли.

$40+8$        $70-60+30$

$89-9$        $53-50+20$

### 2. Порівняй.

$4 \text{ грн} \square 40 \text{ к.}$        $37 \square 40-1$

$9 \text{ см} \square 3 \text{ дм}$        $20+7 \square 26$

### 3. Розв'яжи задачу.

До свята Оля й Іринка намалювали 16 малюнків. Оля намалювала 10. Скільки малюнків намалювала Іринка?

4. Накресли ламану, яка складається з двох відрізків: 5 см і 7 см. Знайди довжину ламаної.

5.\* Знайди пропущені числа.

$20+\square=80$

$56-\square=6$



### 1. Обчисли.

$60+4$        $30+50-20$

$34-4$        $33-30+40$

### 2. Порівняй.

$70 \text{ к.} \square 7 \text{ грн.}$        $50-1 \square 48$

$2 \text{ дм} \square 6 \text{ см}$        $20+4 \square 25$

### 3. Розв'яжи задачу.

Дідусь з Іванком знайшли 45 грибів. Дідусь знайшов 40 грибів. Скільки грибів знайшов Іванко?

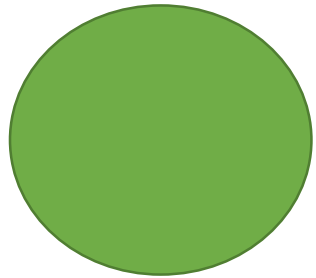
4. Накресли ламану, яка складається з двох відрізків: 3 см і 8 см. Знайди довжину ламаної.

5.\* Знайди пропущені числа.


$30+\square=38$

$70-\square=20$


# Самооцінювання



Було легко працювати.



Були незначні помилки.



Було важко працювати,  
припускався (лася) помилок.

