

Одиниці довжини

- $1 \text{ м} = 10 \text{ дм}$

- $1 \text{ дм} = 10 \text{ см}$

- $1 \text{ м} = 100 \text{ см}$

- $1 \text{ см} = 10 \text{ мм}$


Які з цих величин
найбільші, які найменші?

Метр
Дециметр
Сантиметр
Міліметр

Переглянь відео:

<https://www.youtube.com/watch?v=fSGwrAoLXeM>

Прилад для вимірювання довжини – метр. Він має 10 ланок, кожна з яких завдовжки 10 см.



Також

Довжину предмета можна виміряти за допомогою:

лінійки



мірної стрічки

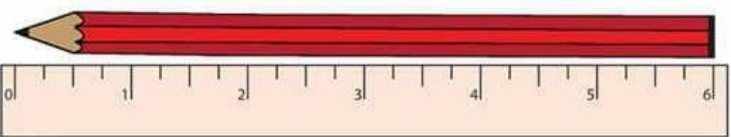


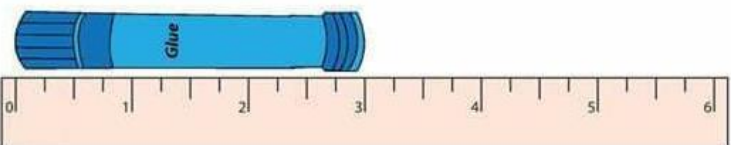
рулетки

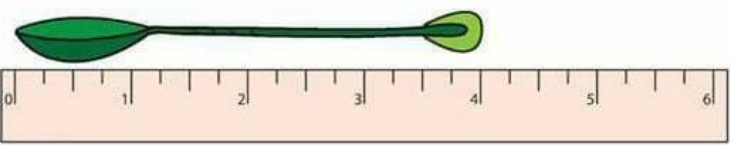


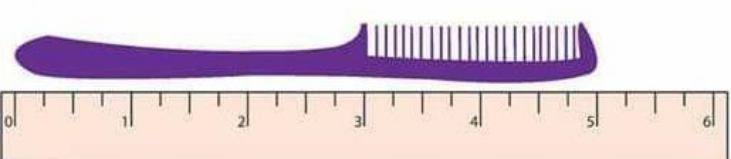
1) Виконай усно

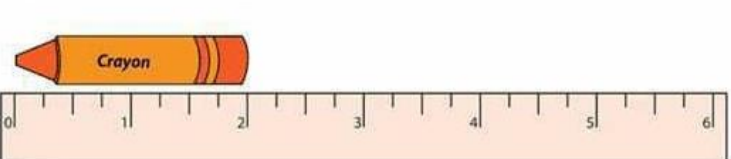
Виміряй довжину предметів в дециметрах


1) 


2) 

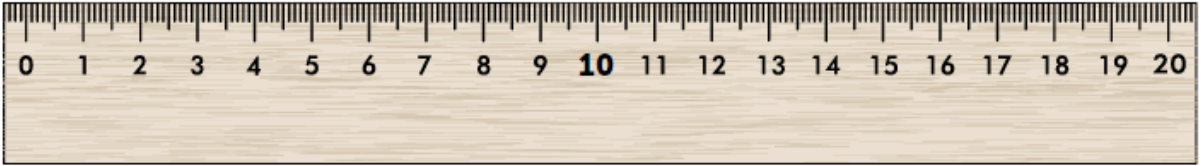
3) 

4) 

5) 

 Виміряй довжину в сантиметрах









Поміркуй!

$$16 \text{ см} = \dots \text{ дм} \dots \text{ см}$$

$$1 \text{ дм } 5 \text{ см} = \dots \text{ см}$$

$$20 \text{ см} = \dots \text{ дм} \dots \text{ см}$$

$$1 \text{ дм } 3 \text{ см} = \dots \text{ см}$$

$$14 \text{ см} = \dots \text{ дм} \dots \text{ см}$$

$$1 \text{ дм } 2 \text{ см} = \dots \text{ см}$$

2) Виконай усно

Порівняй:

$$2 \text{ дм} \square 2 \text{ см}$$

$$4 \text{ м} \square 8 \text{ м}$$

$$1 \text{ м} \square 6 \text{ дм}$$

$$70 \text{ см} \square 7 \text{ дм}$$

- ✓ Висота будинку – 6 метрів, а школи - на 11 метрів більша. Яка висота школи?
- ✓ Глибина річки – 12 метрів, а озера – на 10 метрів менша. Яка глибина озера?
- ✓ Ширина вулиці – 6 метрів, а дороги – 16 метрів. На скільки метрів вулиця вужча, ніж дорога?

3) Хвилинка каліграфії. Запиши у робочому зошиті.

$$1 \text{ м} = 100 \text{ см}$$

$$1 \text{ м} = 10 \text{ дм}$$

4) Робота з підручником (с.101)

№1, 2, 4, 5 – усно.

№3 – письмово.

Цікаво знати!

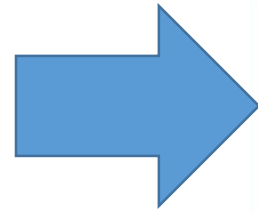


Народні міри довжини

Верста	-	1 км 71 м
Сажень	-	2 м 13 см
Бадог	-	1 м 6 см
Аршин	-	75 см
Лікоть	-	46 см
Фут	-	30 см 3 мм
П'ядь	-	17 см 8 мм
Дюйм	-	2 см 5 мм
Перст	-	2 см



**5) Виконай завдання
письмово в робочому
зошиті**



Обчисли:

$8 - 3 =$

$9 - 3 + 1 =$

$4 - 4 =$

$5 - 4 + 5 =$

$5 + 2 =$

$3 + 3 + 0 =$

$2 + 4 =$

$4 + 5 - 7 =$



Розташуй іменовані числа від найменшого до найбільшого: 1м; 3дм; 48см; 7дм; 20 см.

Розв'яжи задачу.

Висота ясена 9 м, а берези – 4 м. На скільки метрів ясен вищий за березу?

Перевірка запису задачі

Задача

Ясен – 9 м ↑
Береза – 4 м ↓ на ? в.

Розв'язання

$$9 - 4 = 5 \text{ (м)}$$

Відповідь: ясен вищий на 5 м.

*Гарна робота!
Молодець!*