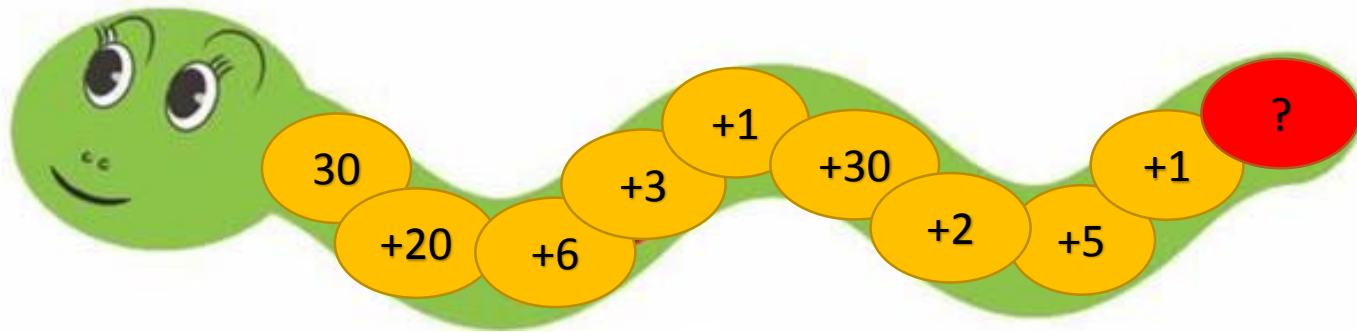


## Усний рахунок

# Повторення про додавання і віднімання круглих чисел

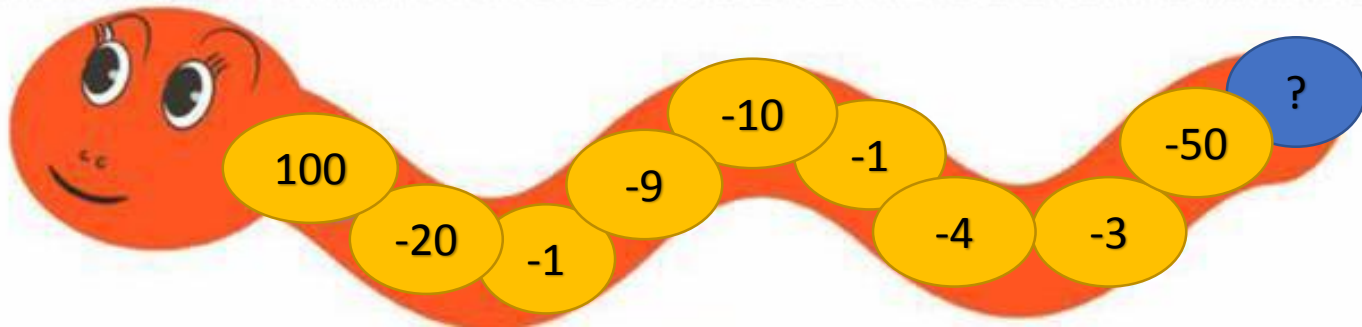


Обчисли математичні змійки.  
Починай з голови.

Знайди суму і різницю  
результатів.

Що ти знаєш про ці числа?


Пригадай, які числа  
називають круглими.



Відступи від попередньої роботи 4 клітинки вниз.  
У 5 клітинці посередині запиши дату та вид роботи.

5 травня  
Дистанційна робота

**Хвилинка каліграфії.** Пропиши рядок круглих чисел в порядку зростання.

 10, 20, ....

### Математичний диктант *(виконай у робочому зошиті)*

- Запиши числа, у яких: 1 десяток і 6 одиниць; 1 десяток і 9 одиниць; 4 десятки і 4 одиниці; 7 одиниць; 8 десятків і 7 одиниць; 9 десятків. Підкресли однією рисою одиниці, двома рисками – десятки.
- Запиши усі числа, що містять 5 десятків.
- Запиши числа сьомого десятка.
- Запиши числа у вигляді суми розрядних доданків: 45, 78, 12.
- Обчисли суму чисел 89 і 1, 24 і 5, 30 і 7. Обчисли різницю чисел 40 і 1, 67 і 7, 54 і 3.

**Розглянь** таблицю. Пригадай, як знайти від'ємник.

**Молодець!** Щоб знайти від'ємник, потрібно від зменшуваного відняти різницю!

Зменшуване	50	100	46	70	25	67	80	59
Від'ємник	?	?	?	?	?	?	?	?
Різниця	30	20	40	60	5	3	50	2

Усно склади і обчисли вирази. **Запиши** у робочий зошит вирази на віднімання круглих чисел.

**Розглянь** таблицю. Пригадай, як знайти невідомий доданок..

**Молодець!** Щоб знайти невідомий доданок, потрібно від суми відняти відомий доданок!

Доданок	20	?	?	70	?	10	40	2
Доданок	?	3	2	?	30	?	?	?
Сума	30	47	55	90	38	50	70	93

Усно склади і обчисли вирази. **Запиши** у робочий зошит вирази на віднімання круглих чисел.

## Робота з підручником

- Розгорни підручник на с. 117.

№1, 4 (усно)

№2 – письмово (обчисли вирази-маршрут Олега)

№3 – письмово (перевірка запису задачі на останньому слайді)

# Закріплення вивченого

1) Розв'яжи задачі усно. Якщо є бажання, то одну із задач на вибір - письмово.

- До свята потрібно надути 14 повітряних кульок. Частина кульок уже надули, залишилося ще 3. Скільки повітряних кульок уже надули?
- У Петрика було 37 грн. Він купив альбом. У нього залишилося 30 грн. Скільки Петрик заплатив за альбом?
- Бабуся для онуків наварила 48 вареників. Після вечері залишилося 8 вареників. Скільки вареників з'їли за вечерею?
- Марійка взяла в бібліотеці книжку на 59 сторінок. Після того, як вона прочитала декілька сторінок, їй залишилося прочитати ще 50. Скільки сторінок прочитала Марійка?



2) Логічна вправа.

Стрічку розрізали в чотирьох місцях. Скільки кусочків отримали?



Наталя Саціна

# Перевірка запису задачі

## Задача 3

Їхало – 18 учн.

Вийшло - ? учн.

Залишилося – 8 учнів.

### Розв'язання

$$18 - 8 = 10 \text{ (учн.)}$$

Відповідь: вийшло 10 учнів.

