

Числа 1-100

1	2	3	4	5	6	7	8	9	10
11	12	13	14	15	16	17	18	19	20
21	22	23	24	25	26	27	28	29	30
31	32	33	34	35	36	37	38	39	40
41	42	43	44	45	46	47	48	49	50
51	52	53	54	55	56	57	58	59	60
61	62	63	64	65	66	67	68	69	70
71	72	73	74	75	76	77	78	79	80
81	82	83	84	85	86	87	88	89	90
91	92	93	94	95	96	97	98	99	100

1) Розглянь таблицю чисел першої сотні.

- ✓ Назви числа 5 десятка.
- ✓ Назви усі числа, які містять 4 десятка.
- ✓ Назви усі числа, які містять 5 одиниць.
- ✓ Назви найбільше число першої сотні.

Десятки	Одиниці
1	9
4	0
1	6
7	0
9	0

2) Розглянь нумераційну таблицю.

- ✓ Назви числа, записані в таблиці.
- ✓ Назви найбільше й найменше числа.
- ✓ Розташуй числа в порядку спадання: від найбільшого до найменшого.
- ✓ Як називається перший розряд?
- ✓ Як називається другий розряд?

Молодець!

Перший розряд – одиниці,
другий розряд – десятки.

Гра «Знайди зайве число»

40, 20, 30, 45, 90;

6, 7, 8, 4, 21;

21, 35, 56, 100, 99;

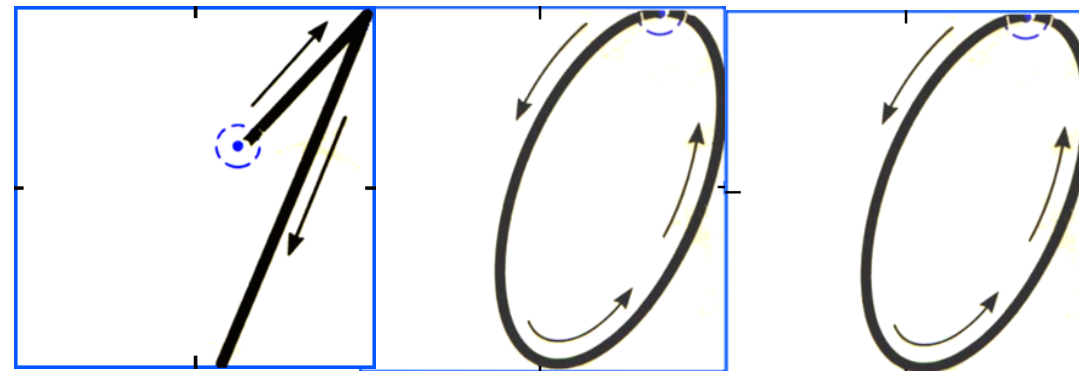
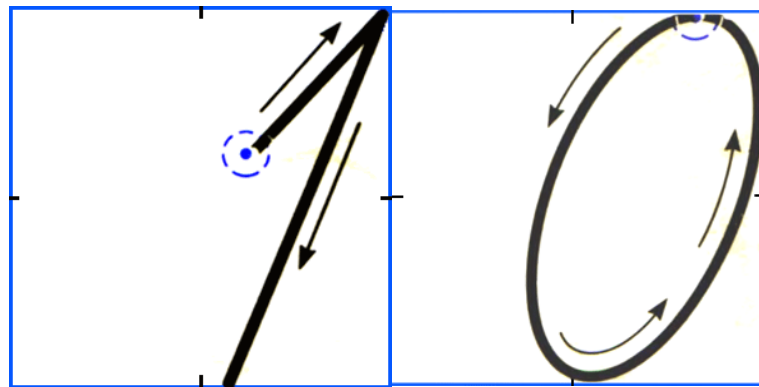
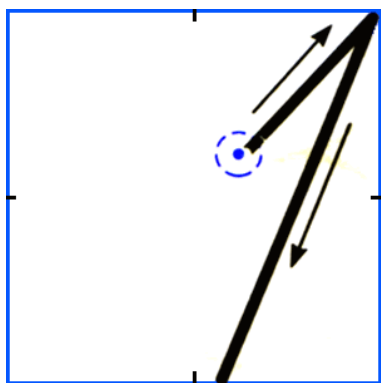
3) Знайди зайве
число (усно).
Поясни.

Запам'ятай!
Число 100 – трицифрове.
Третій розряд – сотні.

Сотні	Десятки	Одиниці
1	0	0

4) Хвилинка каліграфії. Запиши у робочому зошиті числа.

Який розряд позначає цифра 1 у кожному числі?



Молодець!

Розряди - одиниці, десятки, **сотні**.

5) Математичний диктант. Виконай у робочому зошиті.

- Збільш числа на 7: 12, 20, 60, 3.
- Зменш числа на 1: 54, 20, 41, 6.
- Перший доданок - 36, другий – 1. Чому дорівнює сума?
Обчисли перший доданок, якщо другий – 7, а сума – 17.
- Зменшуване - 12, від'ємник - 2. Чому дорівнює різниця?
- На скільки 18 більше, ніж 3; на скільки 4 менше, ніж 13.

6) Виконай завдання письмово:

1 грн □ 42 к.

54 см □ 1 м

13 см □ 1 дм 5см

85 к. □ 58 к.

7) Робота з підручником (с.103)

№1, 2, 6 – усно.

№3, 4, 5, 7 – письмово.

(№7 – перевірка на наступному слайді)

Перевірка запису задачі

Задача 5

Калач – 18 грн

Батон - ? , на 6 грн д.

Розв'язання

$$18 - 6 = 12 \text{ (грн)}$$

Відповідь: батон коштує 12 грн.

Чудова робота!

